



Uso software de presentación y sus respectivas herramientas.” 5°

NOMBRE:

CURSO:

PUNTAJE IDEAL: 28 puntos

PUNTAJE REAL:

NOTA:

1.- ¿Qué es el internet?

- a) Es una red de redes que permite una interconexión.
- b) Es un software.
- c) Es un programa de hardware.
- d) Todas las anteriores.

2.- ¿Qué es una hoja de cálculo?

- a) Papel cuadriculado.
- b) Software donde se usan datos numéricos y se realizan cálculos automáticos.
- c) Programa de internet donde se sacan promedios.
- d) Todas las anteriores.

3.- ¿Qué son los procesadores de texto?

- a) Hardware donde se escriben textos.
- b) Aplicación informática que crea o modifica documentos escritos computarizados
- c) Para crear textos en PowerPoint.
- d) a y b con correctas

4.- ¿Cuál es la función de Microsoft Excel?

- a) Crear presupuestos, almacenar bases de datos.
- b) Crear procesadores de textos.
- c) Resolver programas simples de matemática con sólo unas pocas teclas.
- d) a y c son correctas.

5.- La función principal de los gráficos es:

- a) Representar datos gráficamente.
- b) Crear una visión más compleja de los datos.
- c) Ordenar los datos dados por las personas.
- d) Ninguna de las anteriores.

6.- Los principales tipos de gráficos que existen son:

- a) Barra, columna y circular.
- b) Barra, líneas y 3D.
- c) Redondo, de torta y de puntos
- d) Columna, horizontal y lineal.



7.- Define la siguiente amenaza de internet.



8.-Crea una lista con 4 beneficios del uso de internet en la escuela, en el hogar y con los amigos.

9.-Observa las imágenes y menciona para que se utiliza cada programa.

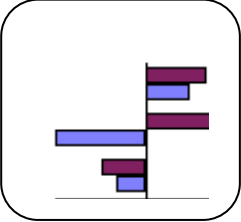
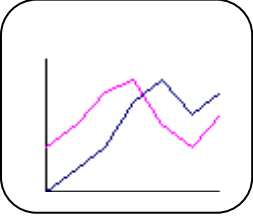
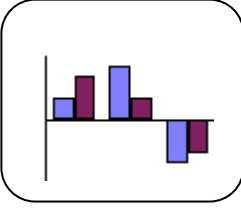
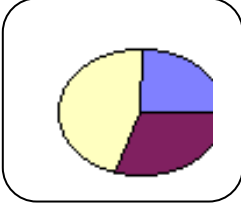


10.-Observa la barra de herramientas y encierra el menú que se utiliza para crear gráficos.






11.- Observa los diferentes tipos de gráficos y escribe su nombre en cada recuadro.

a)  b)  c)  d) 

12.- Dibuja un gráfico de columna con los siguientes datos: se les realiza una encuesta a 30 alumnos de un curso sobre los tipos de frutas que consumían, los resultados fueron los siguientes.

4 alumnos consumen kiwis
6 alumnos consumen plátanos
8 alumnos consumen manzanas
12 alumnos consumen naranjas





Pauta de Corrección

Ítem	O.A.	Respuesta	Puntaje
1	5	A	1 punto
2	5	B	1 punto
3	5	B	1 punto
4	5	D	1 punto
5	5	A	1 punto
6	5	A	1 punto
7	5	Virus informático: Es un malware que tiene por objeto alterar el normal funcionamiento de la computadora, sin el permiso o el conocimiento del usuario.	2 puntos
8	5	Beneficios: Buscar personas que están lejos, investigar tareas, conocer la historia de diferentes lugares, buscar imágenes, comunicarse con personas de todas partes del mundo, traducir textos a otros idiomas, etc.	1 punto por cada beneficio. 4 puntos total
9	5	1) buscar información. 2) Buscar videos. 3) Buscar personas y comunicarse con ellas.	1 puntos por identificar cada función. 3 puntos total
10	5	Se pretende que el alumno observe y encierre la imagen donde aparece el grafico de colores.	1 punto
11	5	a) Gráfico de barras. b) Gráfico de líneas. c) Gráfico de columnas. d) Gráfico circular.	1 punto por cada nombre. 4 puntos total.
12	5	El alumno debe identificar el gráfico de columna y saber ordenar los datos en forma vertical y horizontal	2 puntos por dato horizontal y 2 puntos por cada dato vertical ubicado correctamente. 8 puntos total
TOTAL DE PUNTAJE			28 puntos