



Retroalimentación de evaluación 2 de Historia y Geografía 5°

Semana 16

Profesor Rodrigo Gazmuri

Semana	Clase		
Curso	5° AÑO	Unidad 2	Semana 13 27/31 de JULIO
OA (objetivo de aprendizaje)	OA 3 Caracterizar las grandes zonas de Chile y sus paisajes (Norte Grande, Norte Chico, Zona Central, Zona Sur y Zona Austral) considerando ubicación, clima (temperatura y precipitaciones) relieve, población y recursos naturales, con apoyo de fuentes.		
Objetivo de la clase.	Reconocer las unidades del relieve chileno		
Actitudinal	Valorar a riqueza y diversidad de los paisajes del relieve chileno.		
Contenidos/ Habilidad	Reconocer /unidades del relieve chileno		
Recursos	Cuaderno – lápices de colores - atlas		

Saludos estudiantes: En esta semana de retroalimentación de la evaluación formativa n° 2, reforzaremos el concepto de unidad del relieve. Para esto, iniciaremos analizando un mapa de Chile que muestra con colores las diferentes unidades del relieve. Luego, ese mismo mapa, deberás pintarlo para que sepas reconocer dónde están ubicadas. En otra actividad, en la tarea, reconocerás los perfiles del relieve a lo largo del territorio. En la clase siguiente conoceremos paisajes que se asocian a cada unidad del relieve, por ahora es importante que los reconozcas primero.

Recuerda enviar sólo la Tarea, indicando tu nombre, curso y semana de trabajo.

La Tarea se envía al e-mail rodrigo.gazmuri@colegio-mansodevelasco.cl **Entre los días 3 al 7 de agosto.**

ACTIVIDADES de LENGUAJE Y COMUNICACIÓN E HISTORIA Y GEOGRAFÍA 5°





SEMANA 16 DEL 27 AL 31 DE JULIO

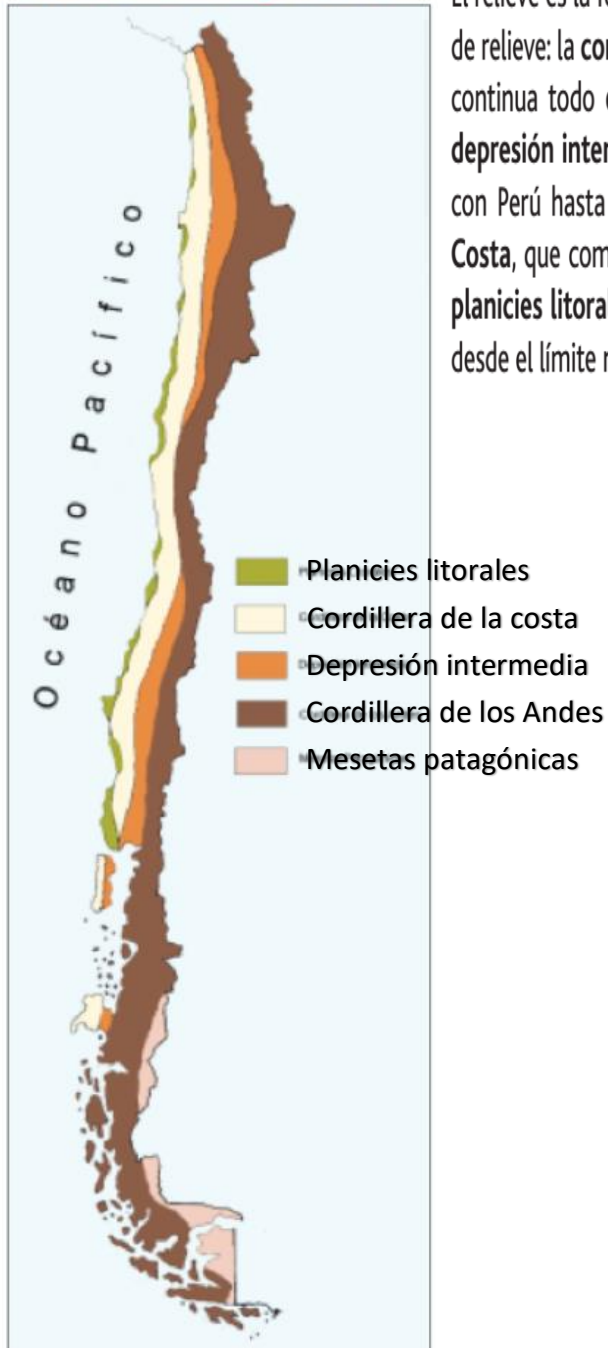
1-Para comenzar reflexionemos:

Sabiendo que el Relieve, es la forma de la superficie de la tierra...

¿Cómo es la forma de la superficie de la tierra en mi país Chile??

Lee atentamente los siguiente: [Las formas del relieve en Chile.](#)

Mapa Geomorfológico de Chile



El relieve es la forma que adopta la superficie de un territorio. En Chile existen cuatro unidades de relieve: la **cordillera de los Andes**, que comienza al norte de Venezuela y recorre de manera continua todo el continente hacia el sur, atravesando Chile hasta el territorio antártico; la **depresión intermedia** que se extiende entre ambas cordilleras y comienza en el límite norte con Perú hasta Puerto Montt, específicamente en el seno de Reloncaví; la **cordillera de la Costa**, que comienza al sur de Arica en el cerro Camaraca hasta la península del Taitao; y las **planicies litorales**, unidad de relieve que se extiende entre el mar y la cordillera de la Costa desde el límite norte con Perú hasta la península de Taitao en la Región de Aysén.

Observa LA FUENTE INFORMATIVA HISTÓRICA MAPA ii

FÍJATE QUE LOS COLORES DE LA SIMBOLOGÍA NOS INDICAN LA PRESENCIA DE LAS UNIDADES DEL RELIEVE:

PLANICIES LITORALES COLOR VERDE

CORDILLERA DE LA COSTA COLOR BLANCO

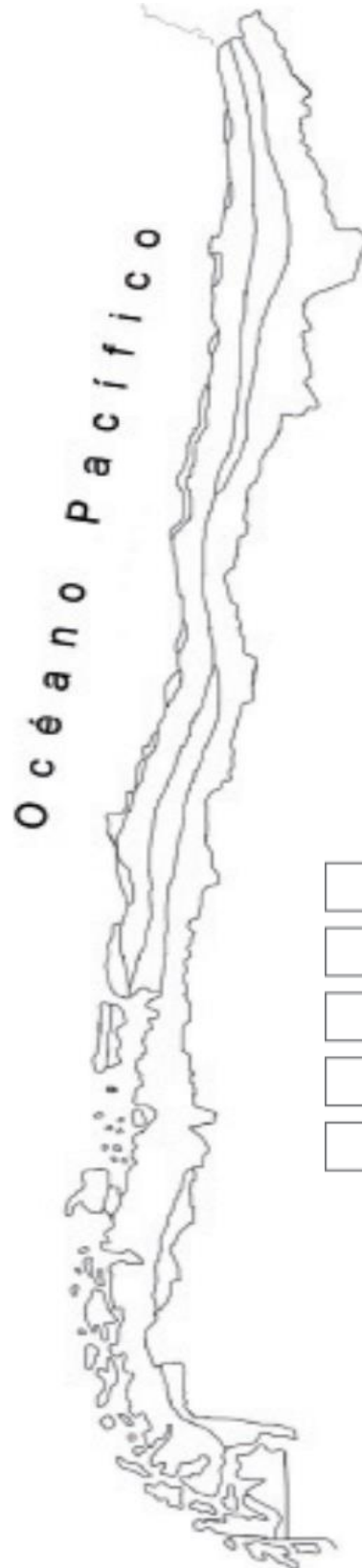
DEPRESIÓN INTERMEDIA COLOR NARANJO

CORDILLERA DE LOS ANDES COLOR CAFÉ

MESETAS PATAGÓNICAS COLOR ROSADO



2-Siguiendo la orientación del mapa anterior Reconoce **coloreando las cuatro franjas de relieve** en el mapa de la página siguiente y luego completa la leyenda o simbología. En la Zona Austral incluye las mesetas patagónicas. Si no puedes imprimir cópialo en tu cuaderno lo mejor posible.



- Planicies litorales
- Cordillera de la Costa
- Depresión Intermedia
- Cordillera de los Andes
- Mesetas Patagónicas

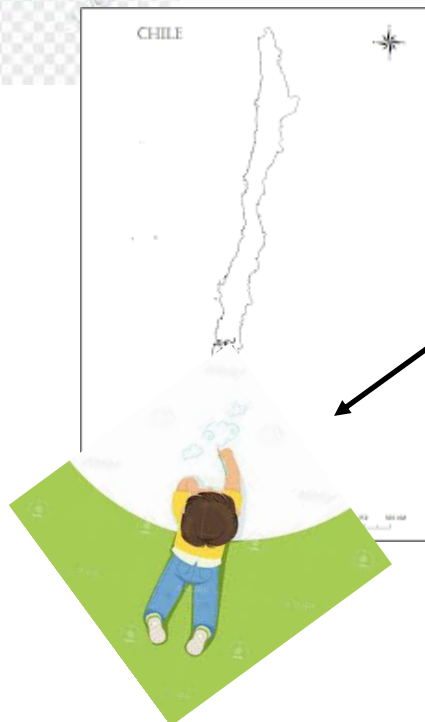
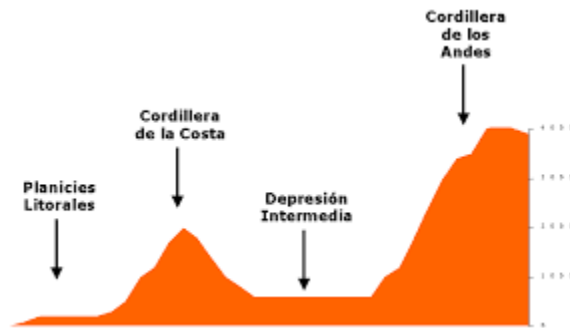



TAREA de LENGUAJE y COMUNICACIÓN E HISTORIA Y GEOGRAFÍA 5°

SEMANA 16 DEL 27 AL 31 DE JULIO.

1-Para reconocer y reforzar:

IMAGINA QUE ERES UN GIGANTE TE ACUESTAS DE GUATITA AL SUELO Y PUEDES VER LA TIERRA DE ESTA MANERAiiii



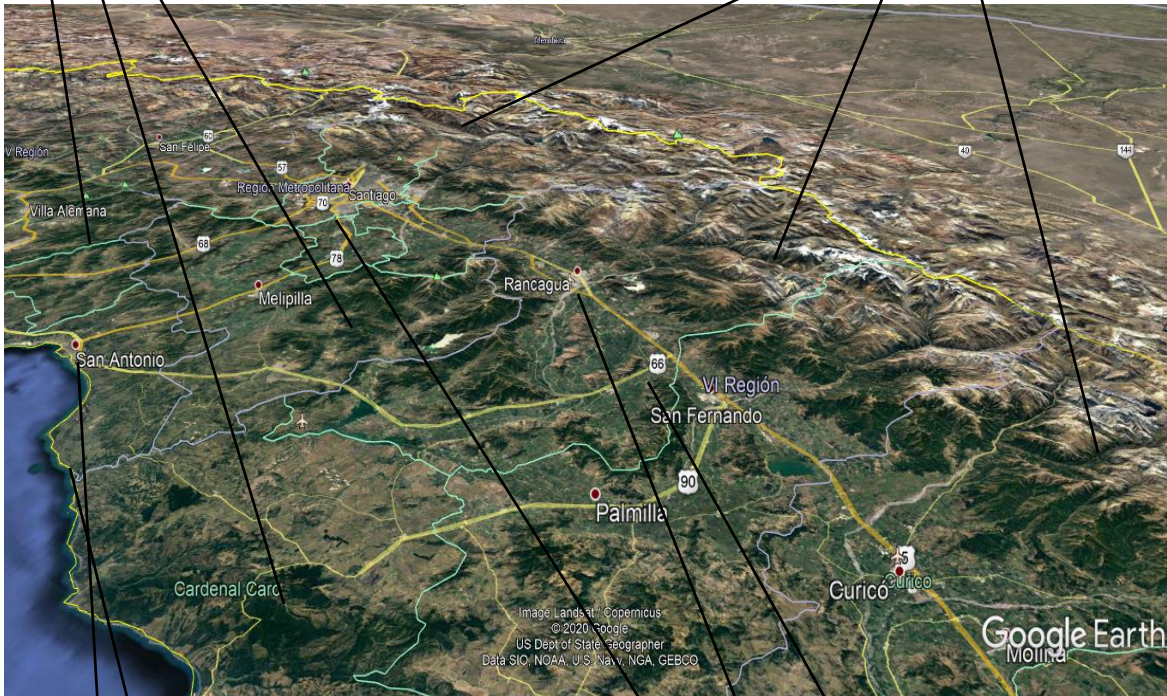
ESTE NIÑO ESTÁ MIRANDO DESDE ESA POSICIÓN CON SU CABEZA APUNTANDO AL NORTE DE CHILE Y ASÍ PUEDE OBSERVAR EL PERFIL DE SU RELIEVE Y SUS DIFERENTES UNIDADES



AQUÍ PUEDES TAMBIÉN OBSERVAR LA UNIDADES DEL RELIEVE, EN ESTE CASO ES LA ZONA CENTRAL

CORDILLERA DE LA COSTA(CERCANA AL MAR)

CORDILLERA DE LOS ANDES



PLANICIES LITORALES

DEPRESIÓN INTERMEDIA

PBSERVA EL MAPA Y DETERMINA LA UNIDAD DEL RELIEVE EN QUE SE UBICAN LOS SIGUIENTES ELEMNTOS:

CIUDAD DE SAN ANTONIO _____

CIUDAD DE SAN FERNANDO Y CURICÓ _____

LÍMITE FORNTERIZO CON ARGENTNA _____



2 según lo anterior responde las preguntas sobre la siguiente imagen en tu cuaderno con letra clara y ordenada:



A-¿SI FUERAS UN NIÑO GIGANTE HACIA QUÉ PUNTO CARDINAL ESTÁS MIRANDO?

B-¿EN QUÉ UNIDAD DEL RELIEVE ESTÁ RANCAGUA?

C-¿EN QUÉ UNIDAD DEL RELIEVE ESTÁ PICHILEMU?

D-¿QUÉ UNIDAD DEL RELIEVE ESTA CERCA DEL MAR?

3-Observa la imagen y responde:

Zona Austral (XI y XII Región)

Perfil Topográfico 54° Latitud Sur

Cordillera de los Andes

Canales Australes

Planicie Magallánica

A.¿EN QUÉ ZONA NATURAL ESTÁ ESTE PERFIL DEL RELIEVE?

B-¿QUÉ UNIDADES DEL RELIEVE NO POSEE ESTE PERFIL?