



"REVISEMOS CÓMO VAMOS EN EL PROGRESO DE NUESTRO APRENDIZAJE"

Unidad nº 1: "Las riquezas de América el continente donde vivimos"

Responde de acuerdo a los objetivos que hemos trabajado durante estas semanas al final de la guía se encuentra el solucionario se honesto y sólo utilízalo para comprobar tus respuestas son correctas.

I.- COMPLETACIÓN. Lee con atención los enunciados de las preguntas y completa los espacios en blanco con las siguientes palabras que faltan para darle coherencia a la frase

**Estados unidos – Paralelos- México-Cordillera De Los Andes -
Canadá**

- 1.- Los _____ indican la latitud, que es la distancia medida en grados que hay entre cualquier punto de la Tierra y la línea del Ecuador.
- 2.- Es una gran masa de tierra americana que comprende únicamente a tres divisiones _____, _____ y _____.
- 3.- Las cordilleras, son una imponente montaña que se presenta alta y maciza, principalmente en la región Oeste del continente y cercano al océano Pacífico, entre ellas destaca _____

II.- ALTERNATIVAS. Lee con atención el enunciado de las preguntas y elige la letra con la respuesta correcta. Debes marcar solo una alternativa.

- 4.- ¿Qué continente se encontraría ubicado en el hemisferio Sur?
- A) Europa
 - B) Asia
 - C) Oceanía

5.- ¿Cuál es la importancia que presentan tanto meridianos como paralelos?

I.- Los paralelos se relacionan con la distribución de las zonas climáticas

II.- Los meridianos se utilizan para fijar las horas del planeta

III.- Ambos permiten determinar el cambio entre el día y la noche

A) Sólo I

B) I y II

C) I, II y III

6.- Por la forma como se presenta nuestro continente, se ha podido hacer una clara división en tres principales zonas o regiones, la imagen hace alusión a:

A) Norteamérica

B) Centroamérica

C) Sudamérica



7.- Dentro de las características físicas que se presenta a lo largo y ancho nuestro continente podemos identificar o reconocer:

I.- La presencia de imponentes llanuras fluviales que dan hacia el océano Atlántico.

II.- La presencia de un importante cordón montañoso que va de Norte a Sur.

III.- La presencia de mesetas de baja altura ubicadas al Este del continente.

A) I y II

b) I y III

C) I, II y III



8.- Entre las características que presentan

los climas en América, es que las zonas cálidas se ubican entre el Ecuador y los trópicos, en ellas encontramos paisajes como:

A) La tundra

B) El desierto

C) La pradera



9.- Nuestro continente se ha caracterizado por que han confluído en su conformación étnica la mezcla de dos o más culturas distintas. De acuerdo a esta descripción, esta hace alusión al proceso de:

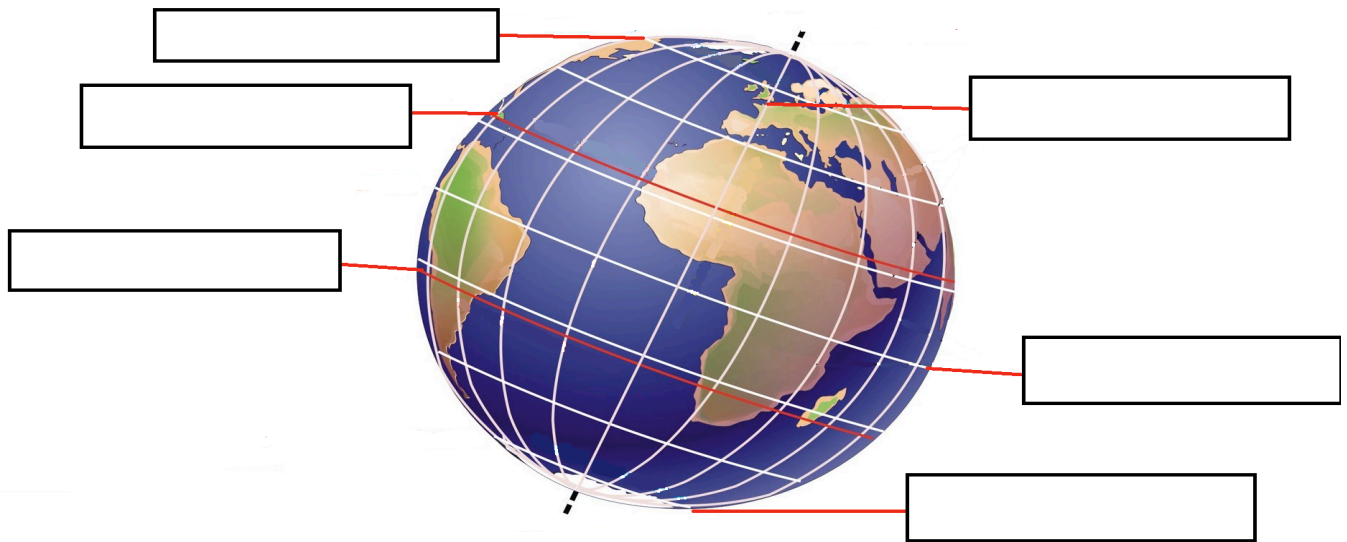
- A) Mestizaje.
- B) Intercambio.
- C) Transculturación

10.- En la mayoría de los países de América el idioma preponderante es el español. De las siguientes naciones, ¿Cuál país de América del sur no tiene como idioma oficial el español?

- A) Paraguay
- B) Cuba
- C) Brasil

IV. DESARROLLO

11.- Ubica en la presente imagen las principales líneas imaginarias del planeta.



12.- Observa el presente mapa físico de América, y responde las siguientes preguntas:



a) Nombra tres países donde se encuentren mesetas.

b) ¿Qué países cruza el río Paraná y de la Plata?

c) ¿Dónde se encuentran los más grandes lagos de América?

d) ¿Qué características presenta Centroamérica?


13.- Completa el siguiente crucigrama referido a los factores y elementos del clima.

Vertical	Horizontal
-----------------	-------------------



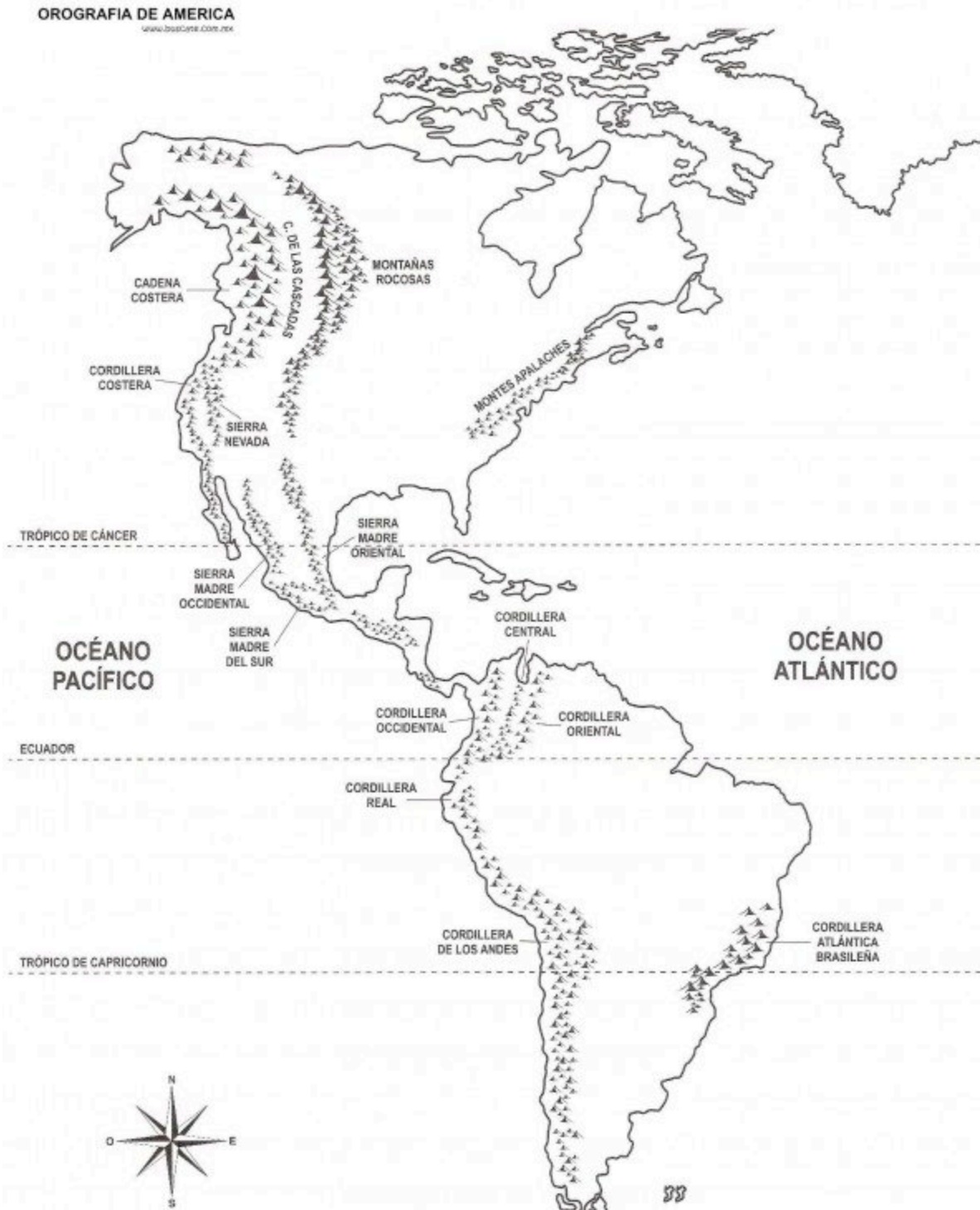
- 1.- Indica el grado de calor o frío de la atmósfera.
- 2.- Es el agua que cae a la superficie, ya sea en forma sólida o líquida.
- 3.- Corresponde al peso o fuerza que ejerce la atmósfera.
- 4.- Corresponde al aire en movimiento.

- 1.- Es la distancia existente entre un punto de la tierra respecto al Ecuador.
- 2.- Es la altura de un lugar respecto al nivel del mar.
- 3.- Forma que presenta la corteza terrestre en la superficie, en relación a las tierras emergidas.
- 4.- Corresponden a grandes masas de agua.



14. En el siguiente mapa colorea la cordillera de los Andes.

15. Pinta las tres regiones en que se divide América con un color diferente para cada una .





PAUTA DE CORRECCIÓN

ítem	Preg.	OA	Respuesta
I	1	OA6	Paralelos
	2	OA6	Estados unidos – Canadá – México
	3	OA7	Cordillera de Los Andes
II	4	OA6	C
	5	OA6	B
	6	OA6	B
	7	OA7	C
	8	OA7	B
	9	OA7	A
	10	OA6	C
III	11	OA6	
	12		<p>Se espera que los alumnos respondan las siguientes respuestas:</p> <p>a) Estados Unidos – Brasil – Guyana – Venezuela – Surinam – Guyana francesa.</p> <p>b) Argentina – Brasil – Paraguay</p> <p>c) América del Norte</p> <p>d) Presenta un conjunto de islas – une América del sur con América del norte – es un istmo.</p>

