



Ubicándonos en una cuadrícula

- Completa la Rosa de los Vientos, escribiendo los puntos cardinales en las líneas.
- En la cuadrícula, dibuja donde correspondan los símbolos que representan los siguientes

elementos:

- Casa (B,5)
- Hospital (F,2)
- Iglesia (D, 6)
- Restaurante (A,3)
- Panadería (E,1)
- Colegio (B,4)
- Plaza (F,3)
- Cancha fútbol (E,4)

| | A | B | C | D | E | F |
|---|---|---|---|---|---|---|
| 1 | | | | | | |
| 2 | | | | | | |
| 3 | | | | | | |
| 4 | | | | | | |
| 5 | | | | | | |
| 6 | | | | | | |

Simbología



Plaza



Casa



Panadería



Colegio



Hospital



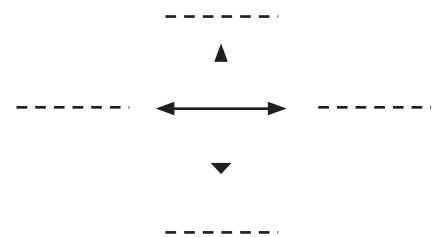
Cancha de fútbol



Restaurante



Iglesia

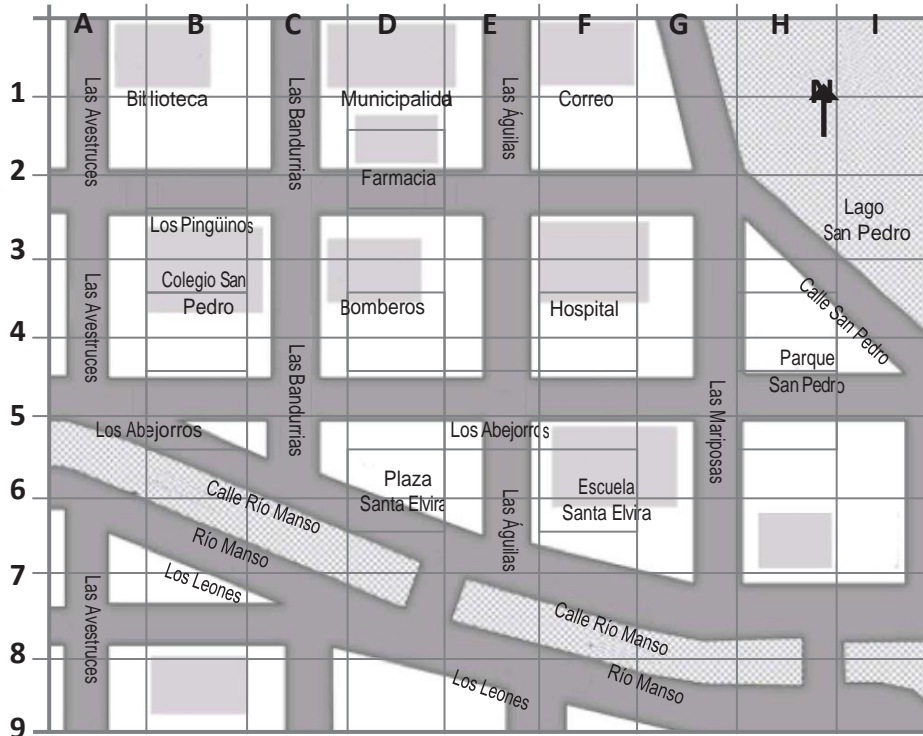


Completa, escribiendo el punto cardinal que corresponde:

- La cancha de fútbol se ubica al _____ del colegio.
- El hospital está al _____ de la plaza.
- El restaurante está al _____ de la plaza.
- La casa se ubica al _____ del colegio.



Donde yo vivo



Dibuja en el mapa:

- Tu casa en B9
- Un supermercado en H7

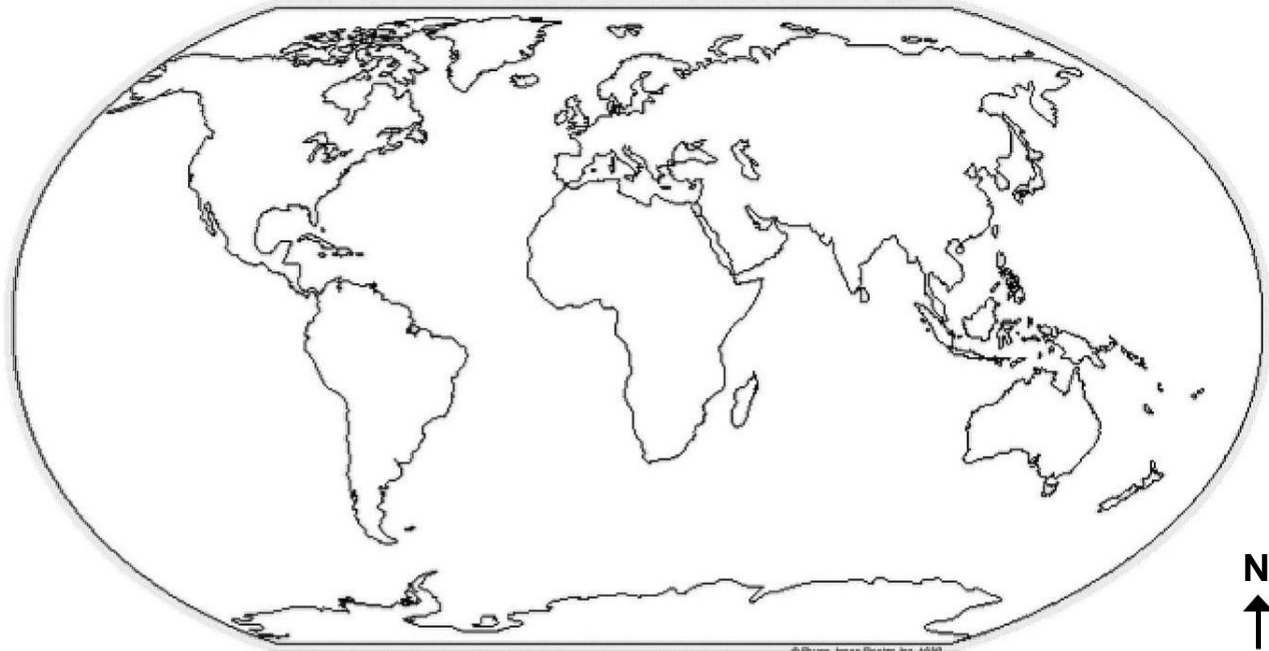
Responde qué edificio o edificios hay:

- En F6 _____
- En D2 _____
- Al oeste de los bomberos _____
- Al este de la Municipalidad _____
- Al sur del correo _____
- Al norte de la plaza Santa Elvira _____

Imagina que tu amiga está en la Biblioteca y debe ir a la Escuela Santa Elvira. Pinta el recorrido que debe seguir en el mapa. Escribe las indicaciones que le diste, usando los puntos cardinales:

Continentes y océanos

Observa el mapamundi y responde:



- ¿En qué continente vives tú? Píntalo rojo.
- ¿Cuál es el océano más grande? _____. Escribe su nombre donde corresponde.
- ¿Qué continente está al este de Europa? _____ Píntalo verde.
- ¿Cómo se llama el continente blanco? Escribe su nombre donde corresponde.
- Ubica Australia. Píntala amarilla. ¿En qué continente se encuentra? _____
- ¿En qué continente se encuentra Grecia? _____ Píntala café.
- ¿En qué continente están las pirámides de Egipto? _____ Pinta el continente morado.
- Pinta azul el océano Glaciar Ártico. ¿Qué continentes bordea? _____

- ¿Qué océano debes cruzar para ir desde África a América del Norte? _____
- ¿Cuál océano baña las costas de África, Asia y Oceanía? _____ Escribe su nombre donde corresponde.