



Guía de Estudio 4° Básico 2020

“Unidad 1”: La Materia y sus propiedades

I.- Contesta las siguientes preguntas.

1. ¿Qué es materia? Brevemente.

<hr/> <hr/> <hr/>

2. De tres ejemplos de materia

<hr/> <hr/> <hr/>








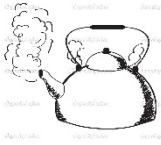

3. ¿Cuáles son los estados en los que se clasifica la materia?

<hr/> <hr/> <hr/>


4. Explica con tus palabras para que utiliza el señor del almacén la balanza,

<hr/> <hr/> <hr/>

5. Observa las siguientes imágenes y clasifica según su estado en sólido, líquido y gaseoso.

6. Completa el siguiente esquema que representa el ciclo del agua, con los procesos que en él ocurren.



7. Señala en qué estado se encuentra el agua en la naturaleza y de ejemplo.

Estado del agua en la naturaleza	Ejemplo

7. Lee con atención los siguientes conceptos. ¿Cuáles de ellos los puedo guardar en un baúl porque ocupan espacio? Pinta de color amarillo los que ocupan espacio.



Felicidad	Juguetes
Manzana	Cuaderno
Amor	Frío
Dinero	Alegría
Aire	Viento

8. ¿Qué son los conceptos que ocupan espacio?

9. ¿Qué le cambia al agua cuando la vaciamos de la botella al vaso?