

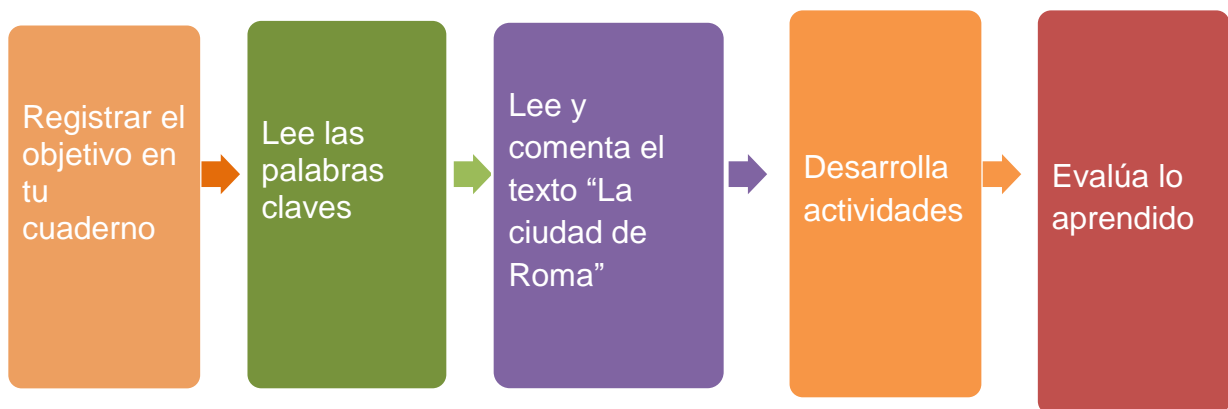
# HISTORIA GEOGRAFIA Y CIENCIAS SOCIALES - SEMANA 31

Docente: Evelyn Silva

Curso	Unidad	Semana	Fecha
Tercer año básico	3	31	16/11 a 20/11
<b>Objetivo de aprendizaje</b>	Caracterizar el entorno geográfico de las civilizaciones estudiadas, utilizando vocabulario geográfico adecuado (continente, valle, montaña, océano, río, archipiélago, mares, península, ciudad, construcciones y monumentos, entre otros) (OA 9)		
<b>Objetivo de la clase</b>	Ubicar temporal y espacial de región donde se desarrolló la civilización romana.		
<b>Actitudinal</b>	Demostrar interés y una actitud activa frente a la lectura, orientada al disfrute de la misma. Realizar actividades de forma rigurosa y perseverante.		
<b>Contenidos</b>	Roma, entorno geográfico, civilización griega, legado		
<b>Recursos</b>	Cuaderno de la asignatura, libro y planisferio entregado junto con canastas		
<b>Fecha de entrega</b>	Viernes 30 de noviembre		

Recuerda enviar la tarea a mi correo [evelyn.silva@colegio-mansodevelasco.cl](mailto:evelyn.silva@colegio-mansodevelasco.cl) también puedes enviarla a mi WhastApp +56 942 099 848

## Ruta de aprendizaje



HISTORIA GEOGRAFIA Y CIENCIAS SOCIALES ACTIVIDAD- SEMANA 27  
Docente: Evelyn Silva

---

## Palabras claves de la clase

### PENÍNSULA ITALICA

Una península es una extensión de tierra rodeada casi completamente por agua. La Península Itálica la podemos reconocer en el mapa por su forma de bota.

### RIO TIBER

Rio más largo de Italia junto en su rivera se estableció Roma

### Monarquía

Forma de gobierno en la que la jefatura del Estado reside en una persona, un rey o una reina

### República

Para los romanos, era una comunidad organizada de ciudadanos en los asuntos públicos

### Imperio

Forma de gobierno donde una persona o autoridad acumula varios poderes.

### Tarquino

Lucio Tarquino el Soberbio, fue el séptimo y **último rey** de Roma, donde reunió seguir la tradición desde el año 534 a. C. hasta el 509 a. C

### Octavio Augusto

Su nombre era Cayo Octavio Turino, adoptó el nombre Octavio Augusto al convertirse en emperador. Fue el primer **emperador** de Roma, gobernó desde el 27 a.C. hasta el 14 d.C.

## LA CUIDAD DE ROMA

¿En muchas ocasiones habrás escuchado hablar de Marte? Todos sabemos que Marte es un planeta, pero ¿sabías que Marte era un antiguo Dios romano? Muchos creen que gracias a Marte nació la antigua Roma.

¿Por qué es importante estudiar a los romanos? Estos al igual que los griegos aportaron un legado a la sociedad occidental que aún seguimos utilizando; algunos de estos aportes por ejemplo, son los números romanos, el sistema republicano, algunas palabras, entre otras. Roma llegó a ser un gran imperio hace unos 2.000 años atrás y que perduró unos 500 años más antes que se desintegrara. Se ubica al sur del continente europeo, en lo que conocemos como Península Itálica, específicamente al lado del río Tíber la cual se emplaza en una zona compuesta de siete colinas. Por su ubicación, Roma se encontraría prácticamente en el centro del mar Mediterráneo.



De acuerdo a la mitología de Roma, Marte fue el padre de dos gemelos. Rómulo y Remo quienes fueron abandonados al nacer, por su tío, en el río Tíber. Fue ahí donde una loba los encuentra y cría como si fueran suyos. Cuando fueron mayores y luego de una pelea, Rómulo mata a Remo y funda Roma



La ciudad se ubicará en la denominada **región del Lacio** (centro de la península itálica) y su fecha de fundación será el año 753 a. C. o sea hace casi 2.800 años atrás.

La historia de Roma se divide en tres periodos marcados: la **monarquía, República, Imperio**

La historia romana se dividió en tres periodos:

1º **Periodo monárquico** (753 - 509 a.C.)

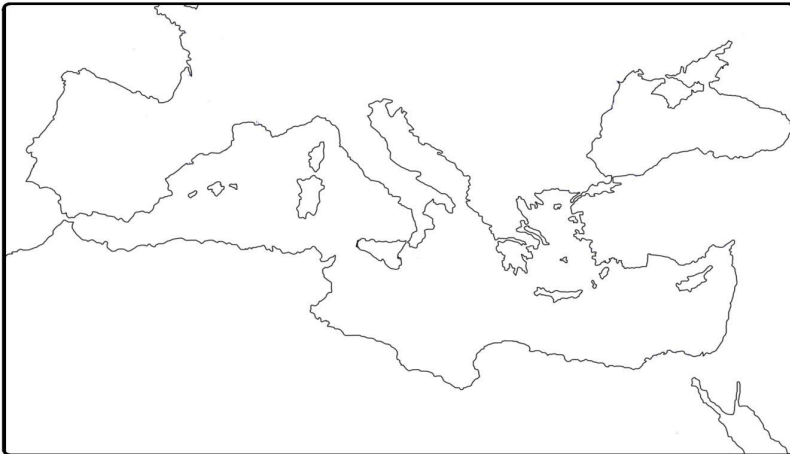
2º **Republica** (509 -27 a.C.)

3º **Imperio** (27 a.C. -476 d.C.)

# ACTIVIDAD

Con la ayuda de un atlas u otra fuente, ubica en el mapa los siguientes elementos:

- Pinta de color celeste el mar Mediterráneo
- Pinta de color verde claro el continente de Europa
- Pinta de color verde oscuro la península itálica
- Pinta de color amarillo el continente de África
- Pinta de color café el continente de Asia
- Ubica y escribe donde se ubica la ciudad de Roma; las islas de Sicilia, Córcega y Cerdeña; y los mares Adriático, Tirreno y jónico



Puedes encontrar este mapa en grande al final de la guía.

Si no tienes los colores solicitados, utiliza otros y escribe la simbología correspondiente

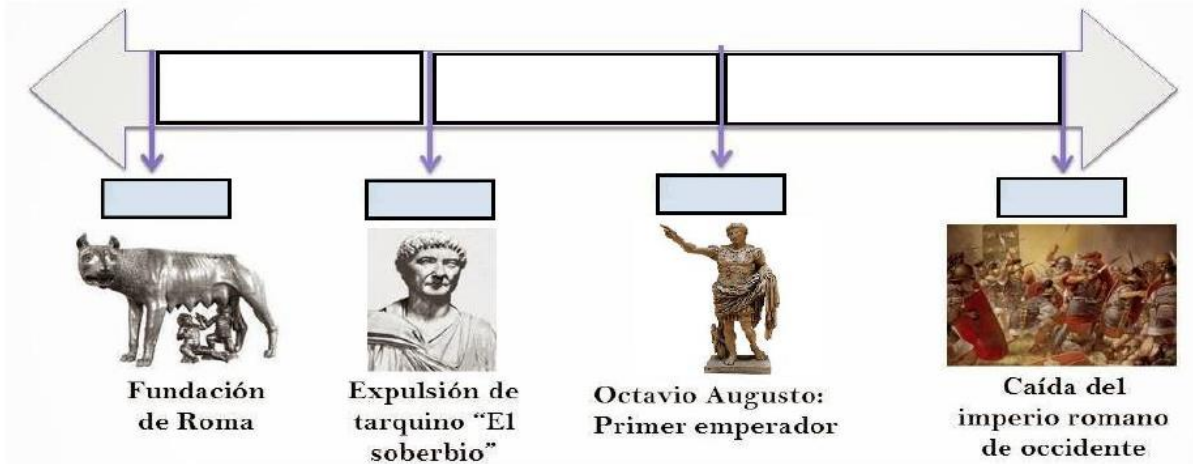
2. De acuerdo a la información que contiene el mapa responde las siguientes preguntas:

- ¿Cómo se llama la península donde se encuentra Roma?
- ¿Cuál es el continente donde se ubica Roma?
- ¿Cuántas islas estuvieron bajo el dominio de Roma?
- ¿Cuál es el nombre del mar que se ubica entre la península Itálica y la península de los Balcanes?
- ¿Qué mar que se ubica al este de Cerdeña y al oeste de la península Itálica?
- ¿Qué característica permite afirmar que la península Itálica es una península?
- ¿Qué ventaja crees que tuvo para los romanos el que se ubicaran en plena península Itálica?

# HISTORIA GEOGRAFIA Y CIENCIAS SOCIALES TAREA - SEMANA 28

## Docente: Evelyn Silva

1. De acuerdo a lo trabajado en clases completa la línea de tiempo donde ubiques los periodos más de la civilización romana.



2. Dibuja:

Un mapa un mapa del mundo donde ubiques a Grecia y a Chile.

Un mapa de Roma y destaca lo que tú consideres más importante de lo que vimos en clases

# ANEXO Pregunta 1

