

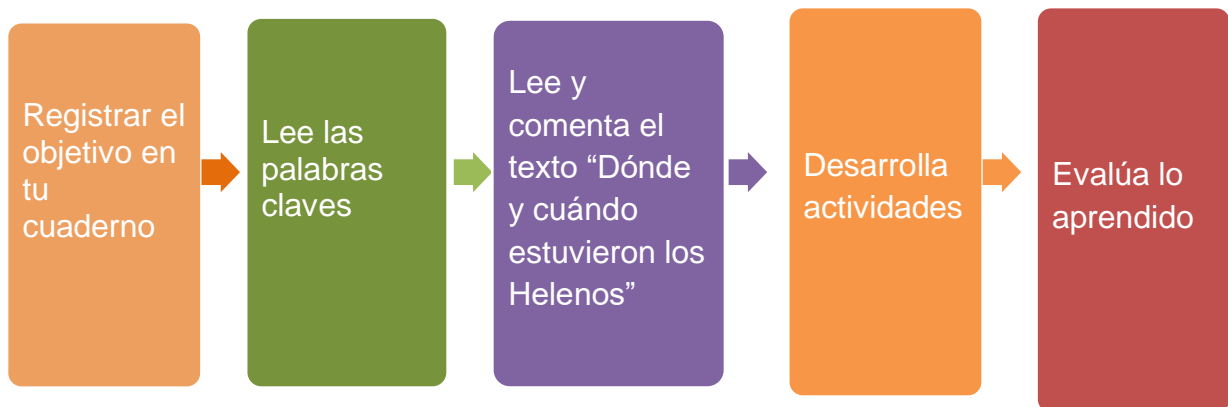
## HISTORIA GEOGRAFIA Y CIENCIAS SOCIALES - SEMANA 27

Docente: Evelyn Silva

Curso	Unidad	Semana	Fecha
Tercer año básico	3	27	19/10 a 23/10
<b>Objetivo de aprendizaje</b>	Caracterizar el entorno geográfico de las civilizaciones estudiadas, utilizando vocabulario geográfico adecuado (continente, valle, montaña, océano, río, archipiélago, mares, península, ciudad, construcciones y monumentos, entre otros) (OA 9)		
<b>Objetivo de la clase</b>	Ubicar temporal y espacial de región donde se desarrolló la civilización griega.		
<b>Actitudinal</b>	Demostrar interés y una actitud activa frente a la lectura, orientada al disfrute de la misma. Realizar actividades de forma rigurosa y perseverante.		
<b>Contenidos</b>	Grecia, entorno geográfico, ubicación, península		
<b>Recursos</b>	Cuaderno, guía de trabajo, libro de Historia, los anexos de la guía (impresos o dibujados).		
<b>Fecha de entrega</b>	Viernes 23 de octubre		

Recuerda enviar la tarea a mi correo [evelyn.silva@colegio-mansodevelasco.cl](mailto:evelyn.silva@colegio-mansodevelasco.cl) también puedes enviarla a mi WhastApp +56 942 099 848

### Ruta de aprendizaje



## HISTORIA GEOGRAFIA Y CIENCIAS SOCIALES ACTIVIDAD- SEMANA 27

Docente: Evelyn Silva

---

### Normas a <sup>\*</sup>cumplir en aula virtual

- 1 DURANTE LA CLASE MANTENER TU MICRÓFONO EN SILENCIO.
- 2 ESTAR VESTIDO CON ROPA ADECUADA Y SENTADO CORRECTAMENTE EN CLASES.
- 3 PONER ATENCIÓN CUANDO EL DOCENTE EXPLICA.
- 4 UTILIZAR EL CHAT PARA DUDAS O PREGUNTAS PEDAGÓGICAS.
- 5 MANTENER LA CÁMARA ENCENDIDA Y LEVANTAR LA MANO PARA HABLAR.
- 6 MANTENER UN LENGUAJE ACORDE A LA CLASE.



## TICKET DE ENTRADA HISTORIA GEOGRAFIA Y CIENCIAS SOCIALES - SEMANA 27

Docente: Evelyn Silva

---

### ¿Qué vimos la clase anterior?

Escribe 3 ideas sobre la clase pasada

- 1) \_\_\_\_\_
- 2) \_\_\_\_\_
- 3) \_\_\_\_\_

## Palabras claves de la clase

### HELENOS

Es el nombre que usaban los griegos para referirse a ellos mismos. Proviene del sector donde vivan llamado Helade.

El término "griegos" apareció después

### PENINSULA BALCÁNICA

Una península es una extensión de tierra rodeada casi completamente por agua. La Península Balcánica se ubica en Europa y lleva ese nombre por los montes Balcanes.

### Grecia continental

Comprendía la península de los Balcanes y se dividía en los territorios, de Macedonia, Tesalia, Beocia y el Ática, y la punta Sur de la Península del Peloponeso.

### Grecia insular

Son las islas ubicadas en el mar Egeo, como Creta, Rodas, Lesbos, etc.

### Grecia asiática

Corresponde a la costa de Asia que limita con el mar Mediterráneo (la actual Turquía).

## ¿DÓNDE Y CUÁNDO ESTUVIERON LOS HELENOS?

Sabías que hace más de 2.500 años atrás, en Europa específicamente a orillas del mar Mediterráneo se desarrolló una gran civilización que será muy importante por los aportes que legará al mundo occidental como lo son las olimpiadas, la filosofía, la matemática, la democracia, el teatro, etc. Esta gran civilización fueron los griegos o como ellos se hacían llamar helenos.

Grecia se ubicaba en lo que se conoce como Península Balcánica (sureste de Europa), los griegos denominaban al territorio donde vivían Hélade, término que proviene de cómo se denominaban los antiguos griegos.

A través de la fundación de colonias, el mundo griego fue expandiendo su cultura, sentando los cimientos de la actual civilización occidental como lo es ámbitos como la política, el arte, la filosofía y la ciencia, que han permanecido hasta nuestros días.



La historia griega se dividió en varios periodos, entre los más importantes encontramos:

- 1º **Civilización minoica** (2.000-1.400 a.C.)
- 2º **Civilización micénica** (1.600-1.100 a.C.)
- 3º **Periodo Oscuro** (1.100-8.00 a.C.)
- 4º **Periodo arcaico** (800-496 a.C.)
- 5º **Periodo clásico** (496-336 a.C.)
- 6º **Periodo helenístico** (336-146 a.C.)



El **Mar Mediterráneo** lugar que le permitió a Grecia difundir su cultura y desarrollarse económicamente es un mar casi cerrado, sus aguas entran y salen de manera casi exclusiva por el estrecho de Gibraltar, el que se encuentra bordeado por los continentes de Europa, Asia y África.

## ACTIVIDAD

Con la ayuda de un atlas u otra fuente realiza las siguientes actividades:

1.- Ubica en el mapa DE LA PAGINA 73 DE TU LIBRO los siguientes nombres: Chile, Europa, Mar Mediterráneo y Península de los Balcanes.

2.- Ubica y pinta de color rojo la península de los Balcanes y de celeste el mar Mediterráneo.

Además, ubica y escribe la ubicación del mar Egeo, el mar Adriático, el mar Jónico, el mar Negro.



Puedes encontrar este mapa en grande al final de la guía.

3.- En el presente mapa realiza las siguientes actividades:

Pintan de color amarillo los territorios de la Grecia continental, de naranja la Grecia asiática y de verde Grecia insular.

Ubica en el mapa las ciudades griegas de Atenas y Esparta.

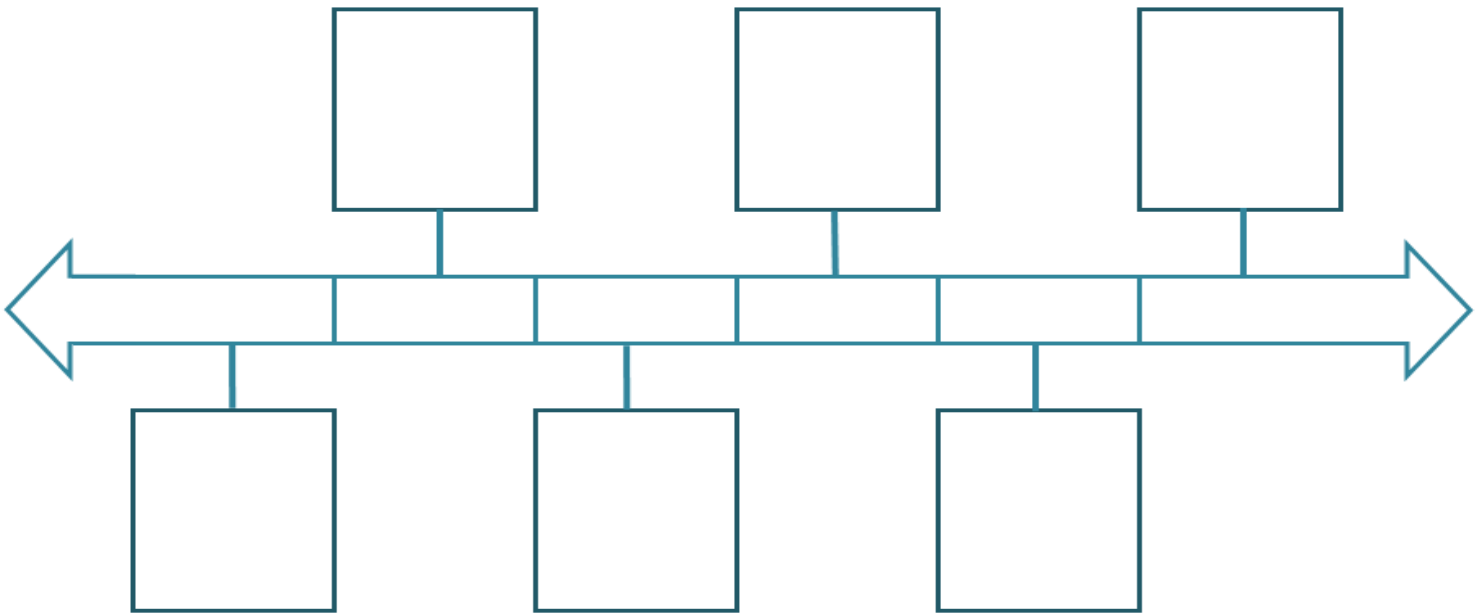


Puedes encontrar este mapa en grande al final de la guía.

TICKET DE SALIDA / TAREA-  
HISTORIA GEOGRAFIA Y CIENCIAS SOCIALES - SEMANA 27  
Docente: Evelyn Silva

---

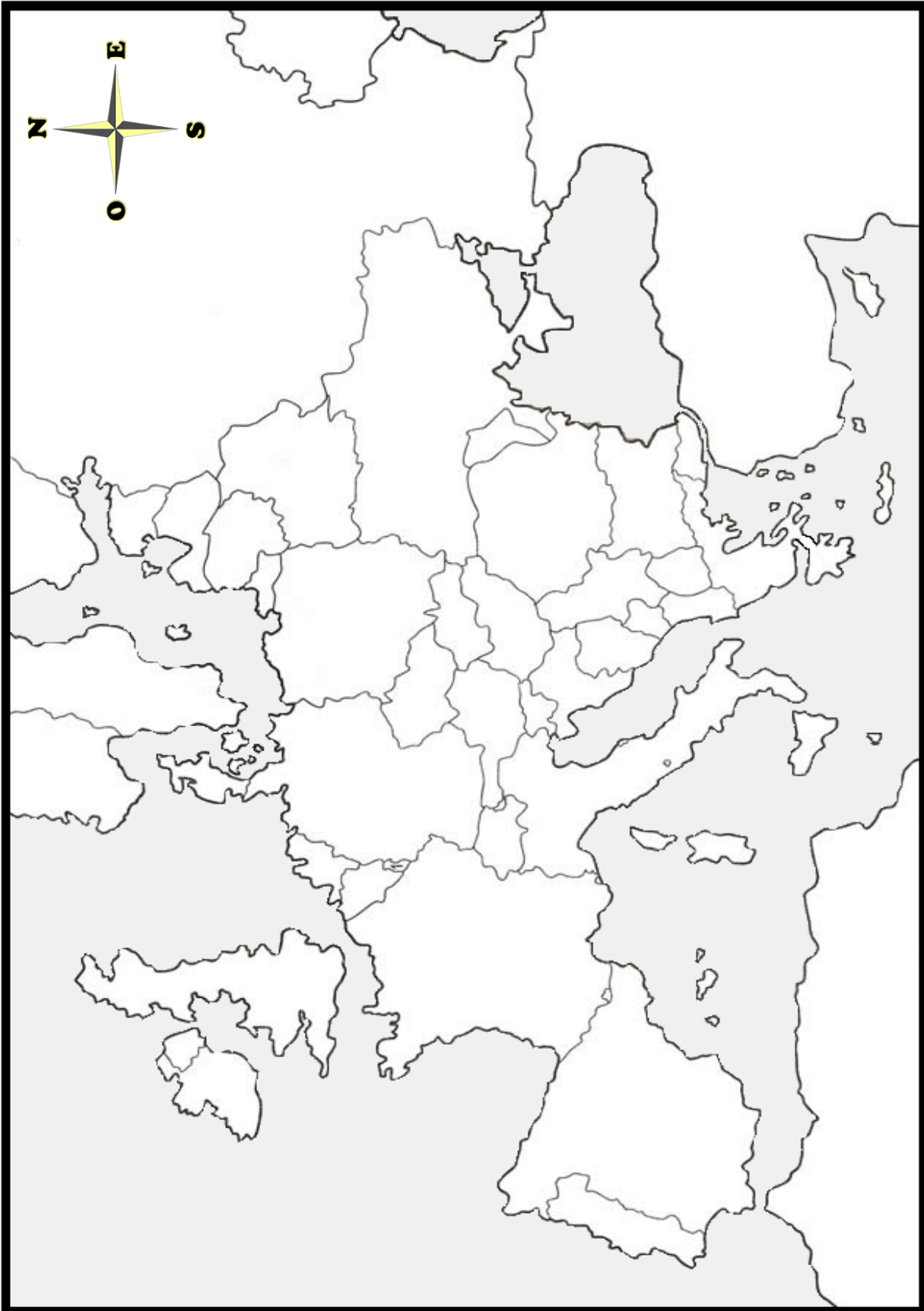
1. De acuerdo a lo trabajado en clases completa una línea de tiempo donde ubiques los periodos más importantes de la civilización griega.



2. Dibuja:  
Un mapa un mapa del mundo donde ubiques a Grecia y a Chile.  
Un mapa de Grecia y destaca lo que tú consideres más importante de lo que vimos en clases



## ANEXO Pregunta 2



### ANEXO Pregunta 3

