

HISTORIA, GEOGRAFIA Y C. SOCIALES- ACTIVIDAD - SEMANA 5

INICIO

¿SABES CUALES SON LAS LÍNEAS IMAGINARIAS DE LA TIERRA?

¿Te has fijado que el globo terráqueo o planisferio tiene una serie de líneas tanto verticales como horizontales que forman una red?



Se trata de las denominadas **líneas imaginarias**, las que fueron creadas para localizar o ubicarnos con facilidad y precisión en cualquier punto sobre la Tierra. Estas líneas se llaman paralelos y meridianos.

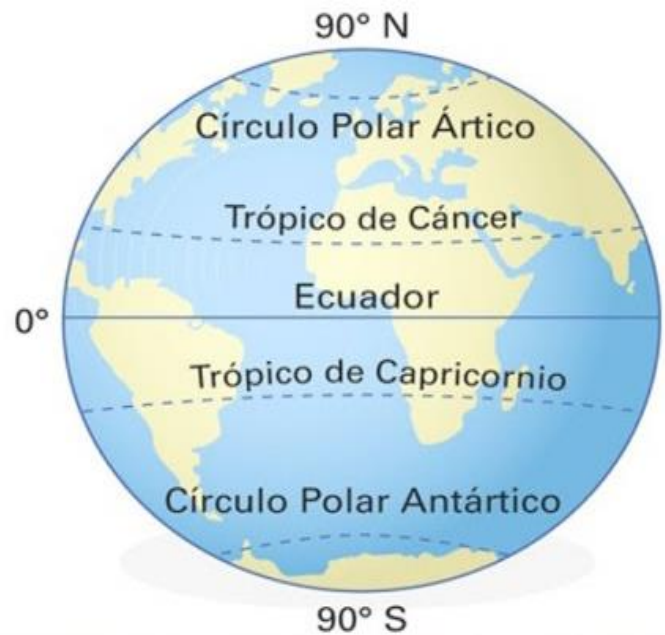
Los paralelos

Son líneas **imaginarias** que recorren la Tierra horizontalmente. Y están numerados desde el paralelo 0° ubicado en la línea del Ecuador hasta los 90° en ambos polos. Los paralelos más importantes son:

La Línea del Ecuador, se le conoce como el paralelo 0° divide en dos mitades la tierra (Hemisferio Norte y Hemisferio Sur).

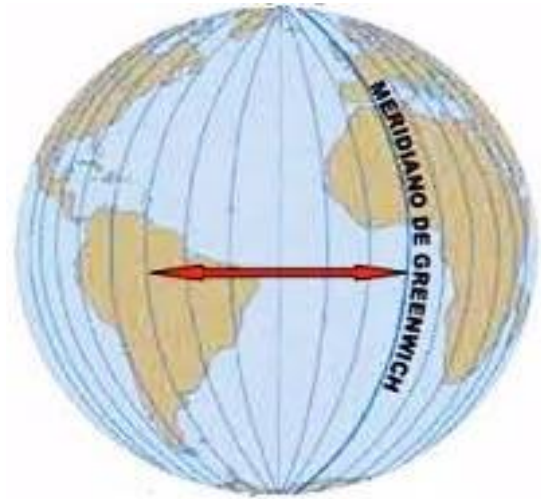
Otros paralelos importantes son los Trópicos (Cáncer y Capricornio); que establecen los límites entre las zonas cálidas y las zonas templadas, como además determinan los solsticios.

Por último encontramos los Círculos Polares; que marcan el límite entre las zonas templadas y frías. Estas líneas recibe el nombre de círculo polar Ártico en el hemisferio Norte y el círculo polar Antártico, en el hemisferio Sur.



Los Meridianos

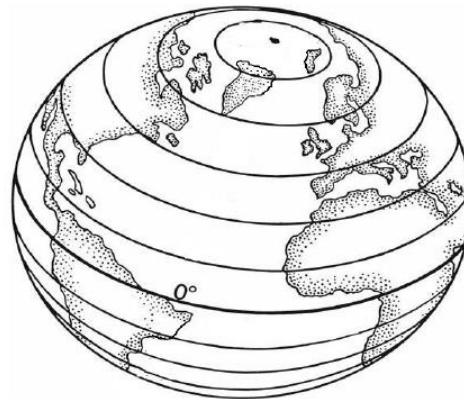
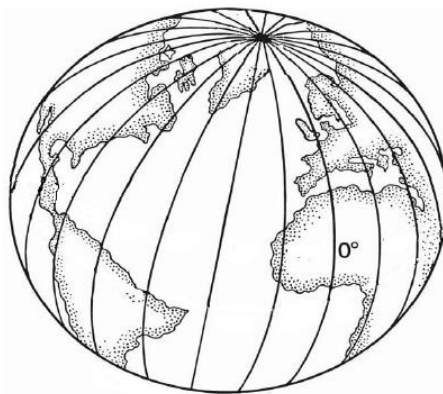
Son semicírculos perpendiculares al Ecuador, los que se unen en los polos y cada uno completa con su antimeridiano un círculo terrestre que pasa por los polos, ambos meridianos forman un círculo que divide a la Tierra en hemisferio occidental y hemisferio oriental. Desde el meridiano de Greenwich, hay 180 grados hacia el oeste (hemisferio Oeste) y 180 grados hacia el este (hemisferio Este).



El meridiano más importante es el Meridiano de Greenwich, es considerado el meridiano base o principal y junto a su meridiano opuesto o antípoda, dividen al planeta en hemisferios Oeste y Este.

Actividad

1.- De los presentes globos terráqueos, identifica y repasa sobre sus líneas con lápiz rojo los meridianos y con lápiz azul los paralelos. En los rectángulos escribe el nombre que corresponde a cada uno



2.- De acuerdo a las líneas imaginarias de la tierra responde las siguientes preguntas en tu cuaderno.

- a) ¿Qué son los meridianos y que características presentan?
- b) ¿Qué son los paralelos y que características presentan?
- c) ¿Cuál es la línea imaginaria que divide la Tierra en hemisferios en Este y Oeste?
- d) Con la ayuda de un atlas indica que países cruza el meridiano de Greenwich.
- e) ¿Qué trópico cruza nuestro país?

DESARROLLO



Desarrolla las actividades de las páginas 36 y 37 del texto el estudiante

Usa el libro de clases para desarrollar las actividades