
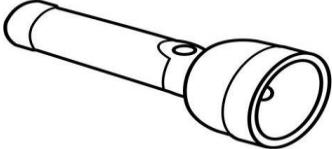




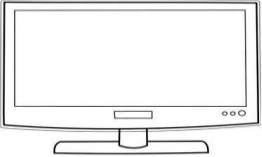






Ciencias Naturales 3° Básico.

Tarea

1.-Observa atentamente las imágenes y clasificalas en fuentes emisoras de luz artificial o natural y registra su clasificación con letra A mayúscula de color celeste y letra N mayúscula de color naranja según corresponda. Fomentando el uso adecuado de la luz artificial.

 <input type="text"/>	 <input type="text"/>	 <input type="text"/>
 <input type="text"/>	 <input type="text"/>	 <input type="text"/>
 <input type="text"/>	 <input type="text"/>	 <input type="text"/>