



4

Semana

1

Clase

“El mundo de los software”

NOMBRE:

CURSO:

PUNTAJE IDEAL: 25 puntos

PUNTAJE REAL:

NOTA:

1.- ¿Qué beneficios tiene para ti y tu familia el uso de la tecnología?

- a) Conocer de cerca el nombre y las funciones de las herramientas.
- b) Crear proyectos a diferentes escalas.
- c) Todas las anteriores.

2.- La tecnología se ha desarrollado para:

- a) Ahorrar dinero en tecnología.
- b) Facilitar el trabajo de noche.
- c) Hacer las cosas más simples y fáciles para el hombre.

3.-Existen diversos tipos de líneas como:

- a) Líneas rectas, curvas y mixtas.
- b) Líneas curvas, rectas y redondas.
- c) Solo a y c.

4.- Para elaborar un producto tecnológico se necesita:

- a) Identificar la secuencia de acciones
- c) Herramientas
- d) Todas las anteriores

5.- Los lados de un rombo:

- a) Son cuatro lados y son todos iguales.
- b) Son cuatro lados diferentes.
- c) No tienen lados.

6.-Dibuja 2 objetos tecnológicos que utilices en tu hogar y que te ayuden a cubrir tus necesidades.

A) 

B) 



4

Semana


1

Clase

7.- Observa las siguientes imágenes, menciona sus nombres y define su función.



8.- Observa la imagen y pinta de **rojo** las líneas curvas y de **azul** las líneas rectas.






9.-Indica cuál de estas figuras corresponde a un polígono, recuerda sus características antes de encerrarla.



10.-En el siguiente recuadro dibuja un rombo.






4

Semana

1

Clase

Ítem	O.A.	Respuesta	Puntaje
1	5	D	1 punto
2	5	C	1 punto
3	5	A	1 punto
4	5	D	1 punto
5	5	A	1 punto
6	5	Es amplia el campo de objetos, puede ser cepillo de dientes, pasta dental, lápiz, juego electrónico, etc.	2 puntos por cada dibujo 4 puntos total
7	5	1) Tijera: cortar. 2) Cartonero: cortar 3) Regla: medir 4) Martillo: clavar y sacar clavos	1 punto por el nombre y 1 punto por la función. 8 puntos total
8	5	Rojo las curvas (olas del mar, las nubes, la vela del bote) y azul las rectas (los rayos del sol y el palo de las velas)	2 puntos por identificar las líneas curvas y 2 puntos por las líneas rectas. 4 puntos total
9	5	A	1 punto
10	5		3 puntos
TOTAL DE PUNTAJE			25 puntos