



- **Asignatura: Matemáticas 2° A**
- **Semana : del 27 al 31 de julio.**
- **Docente : Jeanette Hidalgo B.**



Semana	16	Clase	
<b>Curso</b>	Segundo Año	Nivel 1	Retroalimentación Evaluación Formativa
<b>OA</b>	<ul style="list-style-type: none"><li>• Demostrar que comprende la adición y la sustracción en el ámbito del 0 al 100. OA 9</li></ul>		
<b>Objetivo de la clase</b>	<ul style="list-style-type: none"><li>• <b>Analizar</b> y <b>retroalimentar</b> evaluación formativa para <b>reconocer</b> valor posicional en adiciones verticales.</li></ul>		
<b>Actitudinal</b>	<ul style="list-style-type: none"><li>• Manifiestar una actitud positiva frente a sí mismo y sus capacidades.</li></ul>		
<b>Contenidos</b>	<ul style="list-style-type: none"><li>• valor posicional.</li></ul>		
<b>Recursos</b>	<ul style="list-style-type: none"><li>• Cuaderno estudiante, Calendario</li><li>• Video: <a href="https://www.youtube.com/watch?v=XDkFFErMg4">https://www.youtube.com/watch?v=XDkFFErMg4</a></li><li>• PowerPoint retroalimentación de formulario de matemáticas.</li></ul>		



**¡¡¡Buenos días mis queridos estudiantes!!!**

Esta semana corresponde realizar la retroalimentación de la evaluación formativa, semana 16. Si te organizas con el horario realizado por tus padres, podrás ir desarrollando las guías sin problemas y si los tienes me consultan, siempre estaré para ayudarte. Esta semana trabajaremos en: Analizar y retroalimentar evaluación formativa para reconocer ubicación posicional en adiciones verticales, que fue la respuesta más descendida en la evaluación. Podrás ver vídeos si tienes acceso a internet y profundizar más sobre el tema. Deberás demostrar disposición a desarrollar las actividades y disfrutar de estos aprendizajes.

- **En esta clase no se trabajará con el texto de Matemática.**

Para comenzar deberás disponer de internet para poder ver el vídeo, donde te explicará cómo se ubica el valor posicional en las adiciones verticales en el tablero posicional, que debías realizar en una clase pasada. Finalmente realizarás una tarea, que deberás escribir en tu cuaderno, debes ir registrando las actividades en el cuaderno cuando sea requerido. Y enviarlo a mi correo o al WhatsApp del curso 999671910. Mi correo [jeanette.hidalgo@colegio-mansodevelasco.cl](mailto:jeanette.hidalgo@colegio-mansodevelasco.cl)

- **Enviar las actividades de la semana 16 desde el viernes 31 al lunes 03 de agosto.**



## Actividades Matemática 2° A

**Semana 16 del 27 al 31 de julio Profesora: Jeanette Hidalgo**

Buenos días niños y niñas, ¿Cómo están? ¿Cómo se sienten? Estamos listos para comenzar. Antes les contaré que los resultados de las evaluaciones de matemática, que realizaron en la semana 14, **son muy buenas, han hecho un excelente trabajo.** Hoy retroalimentaremos aquellas preguntas de la evaluación formativa. Mostraremos las preguntas que presentaron mayor debilidad de los aprendizajes.

1° Observa las preguntas que estaban en tu prueba y escríbelas en tu cuaderno:

1- Para encontrar el resultado para  $2 + 41$ , usando la **forma vertical**, debo escribirlos:

A.

$$2 + 41 =$$

B.

$$\begin{array}{r} 2 \\ + 41 \\ \hline \end{array}$$

C.

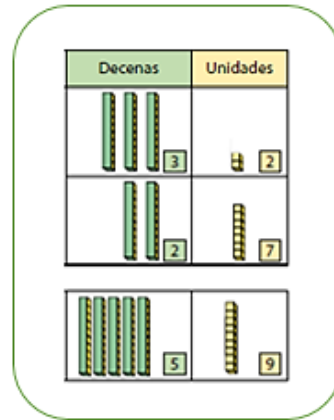
$$\begin{array}{r} 2 \\ + 41 \\ \hline \end{array}$$





9. Para calcular la siguiente suma Debo.

- A. Sumar la unidad con la decena.
- B. Sumar unidades con unidades y decenas con decenas.
- C. Ninguna de las anteriores.



### Si observas la instrucción de la pregunta 1

te darás cuenta que **forma vertical** está ennegrecida, por lo tanto, ¿qué debemos buscar en las alternativas? Siiiiii, muy bien debemos buscar una suma vertical. Para ello debo recordar una de las reglas: Para resolver sumas: **LA UNIDAD DEBE ESTAR DEBAJO DE LA UNIDAD Y LA DECENA DEBAJO DE LA DECENA.** Por lo tanto, en la pregunta 1 la alternativa correcta es la alternativa “C”, y en la pregunta 9 la alternativa correcta es la letra “B”.

2° A continuación, observa el vídeo si tienes acceso a internet.

<https://www.youtube.com/watch?v=XDkFFErMg4>



3° Ahora vamos a practicar y a argumentar:

A. Para encontrar el resultado para  $3 + 43$ , usando la **forma vertical**, debo escribirlos de la siguiente forma:

a.  $3 + 43 =$

b. 
$$\begin{array}{r} 3 \\ + 43 \\ \hline \end{array}$$

c. 
$$\begin{array}{r} 3 \\ + \underline{43} \\ \hline \end{array}$$



Por qué elegiste esta alternativa:

---

---

B. Para encontrar el resultado para  $25 + 1$ , usando la **forma vertical**, debo escribirlos de la siguiente forma:

a-  $25 + 1$

b- 
$$\begin{array}{r} 1 \\ +25 \\ \hline \end{array}$$

c- 
$$\begin{array}{r} 1 \\ +\underline{25} \\ \hline \end{array}$$

Por qué elegiste esta alternativa:

---

---



C. ¿Cuál de las siguientes adiciones verticales es la correcta?

a- 
$$\begin{array}{r} 26 \\ +2 \\ \hline \end{array}$$

b-  $26 + 2$

c- 
$$\begin{array}{r} 26 \\ + 2 \\ \hline \end{array}$$

Por qué elegiste esta alternativa: \_\_\_\_\_


\_\_\_\_\_.

#### 4° Responde en tu cuaderno:

- ¿Comprendiste mejor la clase de hoy?
- ¿Cómo te sientes?
- ¿En qué tienes dudas?
- ¿Es importante el valor posicional de los números?
- Realicemos en nuestro cuaderno de matemáticas una tabla para identificar: **unidad, decena y centena como el siguiente ejemplo.**

Ejemplo	C	D	U
215	2	1	5
367	3	6	7
128	1	2	8

Unidad = 1  
Decena = 10  
Centena = 100





- Enviar las actividades de la semana 16 desde el viernes 31 de julio al lunes 03 de agosto.

**Ahora pasemos a la tarea, Vas muy bien.**

**¡¡Tú puedes!!**



**2° básico, semana 16 tarea matemática**


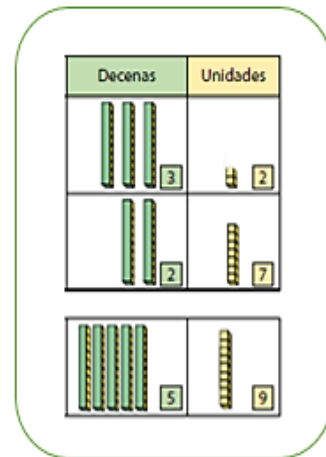
semana del 27 al 31 de julio

Profesora Jeanette Hidalgo

- Para finalizar realizaremos una tarea.

9. Para calcular la siguiente suma Debo.

- A. Sumar la unidad con la decena.
- B. Sumar unidades con unidades y decenas con decenas.
- C. Ninguna de las anteriores.





- Resuelve los siguientes ejercicios de valor posicional.

Recuerda colorear de **azul las unidades** y de **rojo las decenas**.

(forma el número); y escríbelo en el recuadro


Como el ejemplo que te señalaré.

	<div style="border: 1px solid black; padding: 5px; text-align: center;">Nos da <b>15</b></div>		<div style="border: 1px solid black; width: 100px; height: 50px;"></div>
	<div style="border: 1px solid black; width: 100px; height: 50px;"></div>		<div style="border: 1px solid black; width: 100px; height: 50px;"></div>
	<div style="border: 1px solid black; width: 100px; height: 50px;"></div>		<div style="border: 1px solid black; width: 100px; height: 50px;"></div>
	<div style="border: 1px solid black; width: 100px; height: 50px;"></div>		<div style="border: 1px solid black; width: 100px; height: 50px;"></div>

- Ahora toma una foto y envíalo al correo o al whatsapp del curso 999671910

[jeanette.hidalgo@colegio-mansodevelasco.cl](mailto:jeanette.hidalgo@colegio-mansodevelasco.cl)

Enviar las actividades de la semana 16 desde el viernes 31 al lunes 03 de agosto.



**NOS VEMOS  
PRONTO.**