



EDUCACIÓN TECNOLÓGICA

Semana 33

Lunes 30 de noviembre al viernes 4 de
diciembre



María Isabel Trujillo Pino
Profesora **TECNOLOGÍA**
1° año básico

NO IMPRIMIR



SEMANA 33

Lunes 30 de noviembre al viernes 4 de diciembre

Objetivo de Aprendizaje

Distinguir las tareas para elaborar un objeto tecnológico, identificando los materiales y las herramientas necesarios en cada una de ellas para lograr el resultado deseado.

- **Señalan secuencias de acciones para obtener un producto.**
- **Reconocen los materiales y las herramientas que se requieren para elaborar un determinado objeto tecnológico.**

Actitudinal

Demostrar curiosidad por el entorno tecnológico, y disposición a informarse y explorar sus diversos usos, funcionamiento y materiales.

Articulación

Contenido

Fases del proceso tecnológico

Recursos

Cuaderno



NO IMPRIMIR

Normas para Clase Virtual

- DURANTE LA CLASE MANTENER EL MICRÓFONO APAGADO.
- INGRESAR CON EL CORREO INSTITUCIONAL
- SI TIENES UNA DUDA O CONSULTA ENCENDER LA CÁMARA Y LEVANTAR LA MANO.
- MANTENER UN LENGUAJE ACORDE A LA CLASE
- CUMPLIR CON ASISTENCIA Y PUNTUALIDAD
- UTILIZAR CHAT PARA DUDAS O CONSULTAS





Ruta de Aprendizaje

Escucha y sigue las normas que te entregará el profesor

Lee, e identifica las habilidades del objetivo de la clase.

Identificar fases del proceso tecnológico

TAREA
Reconocer fase después de su construcción



RECORDAMOS

¿Qué problema tenía Julieta?

PROBLEMA



Objetivo: Reconocer la importancia de las fases del proceso tecnológico



NO IMPRIMIR

Hoy espero que logren.....




FASES DEL PROCESO
TECNOLÓGICO



1.- Identifica el problema



A



C



B



2.- Solución al problema



¿Cuál es la mejor opción
para darle solución
al problema planteado?


A

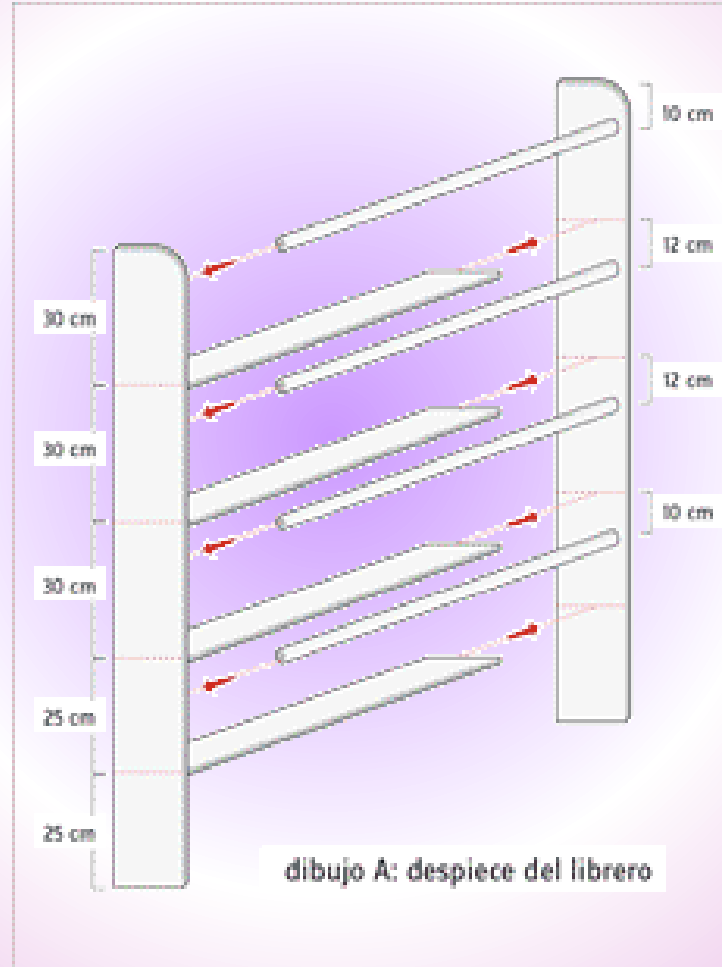


B



C





3.-Bosquejo

4.- Identificar materiales y herramientas



A



B



C

¿Cuál es el paso que vemos en la siguiente imagen?



Paso a paso: cómo hacer un estante

1. Comprar o cortar la tabla a medida.
2. Lijar todos los trozos **de** madera por sus
3. cantos y su superficie **para** darles una buena terminación.
4. Ubicar los cortes triangulares en los
5. extremos y taladrar **como** muestra el video.
6. Atornillar con los topes **de** metal.
7. Pintar o barnizar.

A PROCEDIMIENTO

B MATERIALES

C HERRAMIENTAS

TAREA

Identificar el último paso para finalizar las fases del proceso tecnológico.



**Fecha de entrega :
Viernes 4 al lunes 7 de diciembre**

¿Cuál es el último paso para finalizar este proceso?

