



28 De Septiembre al 2 de Octubre		Clase Martes	
Curso	Primero año A		Semana 24
OA2	Identificar el orden de los elementos de una serie, utilizando números ordinales del primero (1°) al décimo (10°)		
Objetivo de la clase	Reconocer números ordinales del primero (1°) al décimo (10°) a través de problemas		
Actitudinal	Manifestar un estilo de trabajo ordenado y metódico		
Contenidos	Indican la posición de números ordinales hasta el décimo; por ejemplo, el puesto de una persona en una fila. Resuelven problemas acerca de identificaciones de números ordinales.		
Recursos	GUIA Computador internet		

Normas para la clase virtual



Mantener tu micrófono en silencio.



Poner atención cuando la profesora explica.



Utilizar el chat para tus dudas o preguntas.



Levantar tu mano para hablar.

Registra el objetivo en tu cuaderno



OBJETIVO : **Comprender** números ordinales del primero (1°) al décimo (10°)
a través de problemas

*“**R**ecuerda tener disponible todo lo necesario para comenzar la clase: Cuaderno, texto de estudio, lápiz y goma”*





Ruta de aprendizaje



“Recuerda realizar todos los pasos de la ruta de aprendizaje para poder cumplir el objetivo”






Recordar

Conteo de números ascendente y descendente

1	2	3	4	5	6	7	8	9	10
11	12	13	14	15	16	17	18	19	20
21	22	23	24	25	26	27	28	29	30
31	32	33	34	35	36	37	38	39	40
41	42	43	44	45	46	47	48	49	50
51	52	53	54	55	56	57	58	59	60
61	62	63	64	65	66	67	68	69	70
71	72	73	74	75	76	77	78	79	80
81	82	83	84	85	86	87	88	89	90
91	92	93	94	95	96	97	98	99	100

Los números ordinales



Observa la fila y selecciona el número posterior.

3.° tercero →

8.° octavo →

5.° quinto →

7. ¿En qué lugar desde arriba se encuentra la bandera con el ratón?



- A. 3° TERCERO
- B. 2° SEGUNDO
- C. 4° CUARTO

8. ¿Cuál es el animal de la 4° bandera desde abajo?



A.



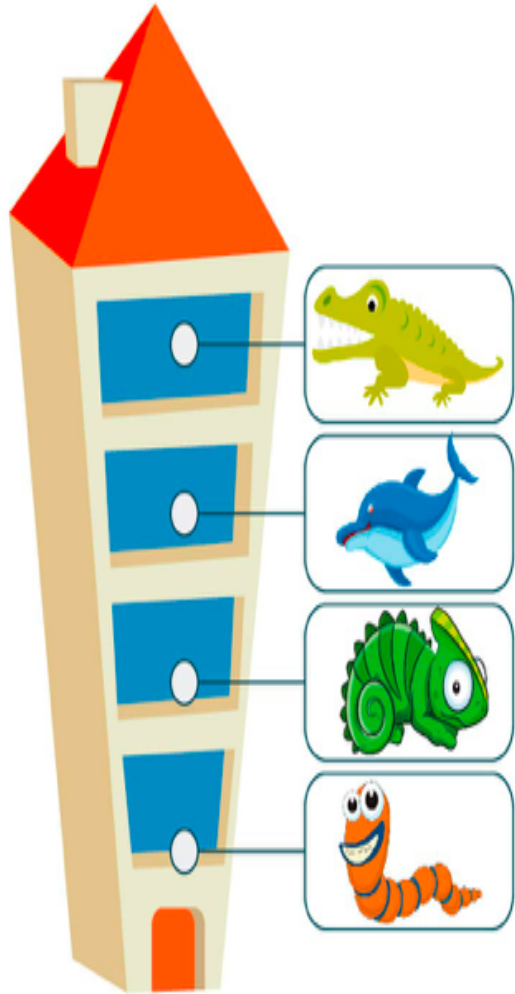
B.



C.




¡A trabajar! Tendrás que reconocer ¿Dónde viven los animales ?



El animal del segundo piso es...

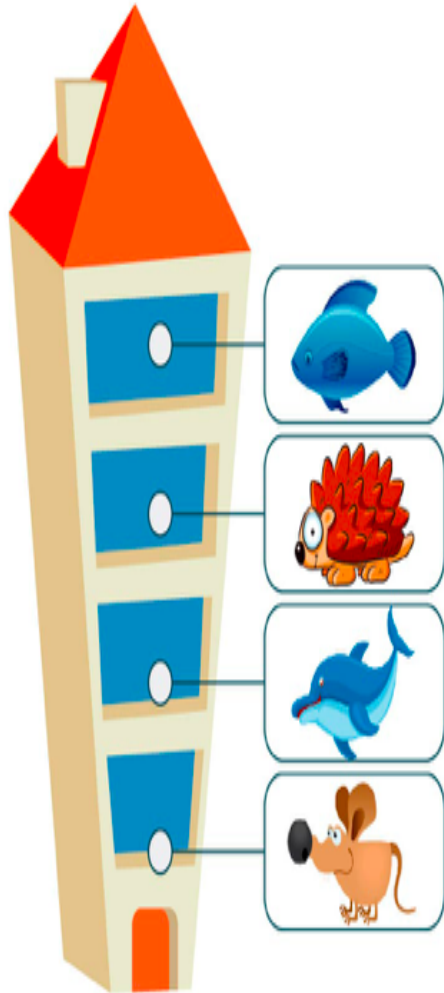
- Camaleón
- Cocodrilo
- Gusano
- Delfín



El pulpo está en el piso...

- Segundo
- Cuarto
- Tercero
- Primero

¿Dónde viven los animales ?



El ratón está en el piso...

Tercero

Primero

Cuarto

Segundo



El animal del primer piso es...

Vaca

Mariquita

León

Cocodrilo

Reconocer posición de los números ordinales

¿Qué número va antes del sexto?

Tercero

Quinto

Segundo

Cuarto

Primero, segundo y...

Quinto

Primero

Tercero

Cuarto

Tercero, cuarto y...

Segundo

Quinto

Primero

Tercero

Segundo, tercero y...

Cuarto

Quinto

Primero

Tercero

¿Qué número va después del quinto?

Quinto

Sexto

Cuarto

Segundo

Cuarto, quinto y...


Tercero

Segundo


Sexto

Primero

¡Vamos a la tarea!



Tarea



El mono está en el piso...

- Cuarto
- Primero
- Tercero
- Segundo

Al terminar deberás enviar la tarea a mi correo [Katherinne . Bakx @colegio-mansodevelasco.cl](mailto:Katherinne.Bakx@colegio-mansodevelasco.cl) o imágenes de tu cuaderno a mi teléfono, el plazo de entrega es desde viernes 2 de Octubre



¡Autoevaluación

Ahora autoevalúate con respecto al trabajo de hoy une con una línea como sentiste

1.- Logré desarrollar las actividades

2.- Me faltó tiempo para terminar

3.- Demostré mis aprendizajes

4.- Puedo leer números ordinales del 1° al 10°

