

ACTIVIDADES






-Antes de comenzar observa los link en tu Celular , computador, <https://youtu.be/VgfPACi32cg> (adición con sumando 0)
 .Después de Observar los link trabaja en tu LIBRO DE MATEMÁTICA Pág 47 y libro de ejercicios de Matemática pág 20

-Recuerda que puedes utilizar material concreto para trabajar en las Adiciones con sumando 0

Sumar 0

1 Lanza 2 veces ambas fichas.




 Hermana mayor	Intento 1 	Intento 2 	$2 + 1 = \square$
 María	Intento 1 	Intento 2 	$2 + \square = \square$
 Hermano menor	Intento 1 	Intento 2 	$\square + \square = \square$


2 $4 + 0$ $9 + 0$ $7 + 0$ $8 + 0$
 $0 + 6$ $0 + 5$ $0 + 1$ $0 + 0$

Utilizar Material concretó como fósforo , porotos ect

1 Cada niño pescó 2 veces. ¿Cuánto pescó cada uno?

a)  Primera vez Segunda vez $3 + 4 = \square$
Diego

b)  Primera vez Segunda vez $5 + \square = \square$
Ana

c)  Primera vez Segunda vez $\square + \square = \square$
José

2 Calcula.

a) $3 + 0 = \square$

d) $5 + 0 = \square$

g) $1 + 0 = \square$

b) $0 + 7 = \square$

e) $0 + 9 = \square$

c) $2 + 0 = \square$

f) $0 + 0 = \square$

